



# ASSEMBLEIA LEGISLATIVA

CONCURSO PÚBLICO

## 001. PROVA OBJETIVA

### TÉCNICO LEGISLATIVO

- Você recebeu sua folha de respostas, este caderno, contendo 60 questões objetivas e um tema de redação a ser desenvolvido, e a folha de redação para transcrição do texto definitivo.
- Confira seus dados impressos na capa deste caderno e nas folhas de respostas e de redação.
- Quando for permitido abrir o caderno, verifique se está completo ou se apresenta imperfeições. Caso haja algum problema, informe ao fiscal da sala para a devida substituição desse caderno.
- A folha de redação deverá ser assinada apenas no local indicado; qualquer identificação ou marca feita pelo candidato no verso da folha de redação, que possa permitir sua identificação, acarretará a atribuição de nota zero à redação.
- Redija o texto definitivo e preencha a folha de respostas com caneta de tinta preta. Os rascunhos não serão considerados na correção. A ilegibilidade da letra acarretará prejuízo à nota do candidato.
- A duração das provas objetiva e discursiva (redação) é de 4 horas e 30 minutos, já incluído o tempo para o preenchimento da folha de respostas e para a transcrição do texto definitivo.
- Só será permitida a saída definitiva da sala e do prédio após transcorrida 1 hora do início das provas.
- Deverão permanecer em cada uma das salas de prova os 3 últimos candidatos, até que o último deles entregue sua prova, assinando termo respectivo.
- Ao sair, você entregará ao fiscal a folha de redação, a folha de respostas e este caderno.
- Até que você saia do prédio, todas as proibições e orientações continuam válidas.

Nome do candidato

RG

Inscrição

Prédio

Sala

Carteira

**AGUARDE A ORDEM DO FISCAL PARA ABRIR ESTE CADERNO.**

## CONHECIMENTOS GERAIS

### LÍNGUA PORTUGUESA

Leia a tira para responder às questões de números 01 e 02.



(Bill Waterson, "O Melhor de Calvin".  
<https://cultura.estadao.com.br/quadrinhos>, 27.02.2022)

01. Na frase "Calvin, seu teste foi um completo desastre!", a professora emprega termo em sentido

- (A) figurado para engrandecer o empenho do aluno no teste.
- (B) próprio para enfatizar a tentativa do aluno de acertar.
- (C) figurado para expressar seu contentamento com o aluno.
- (D) próprio para criticar a pouca dedicação escolar do aluno.
- (E) figurado para referir-se ao mau desempenho do aluno.

02. No segundo quadrinho, os termos "chutar" e "estapafúrdias" significam, correta e respectivamente:

- (A) dar pontapés; irrelevantes.
- (B) falar com convicção; coerentes.
- (C) arriscar uma resposta; bizarras.
- (D) tentar um acerto; expressivas.
- (E) dizer uma mentira; organizadas.

Leia o texto para responder às questões de números 03 a 07.

### "Pedra da morte": Relíquia centenária aparece rachada e assusta japoneses

A cidade de Nasu, no Japão, recebe turistas diariamente em suas montanhas vulcânicas, muitos querendo ver o que é chamado de "a pedra da morte" – *sessho-seki* em japonês. No sábado (05.03.2022), visitantes encontraram a famosa rocha partida em dois pedaços e, diante da cena e do nome pouco amigável do objeto, surgiu o medo de que alguma "força maligna" tenha escapado de lá, teoria sustentada pela mitologia local.

Segundo a lenda, a *sessho-seki* é o corpo transformado de Tamamo-no-Mae, mulher que participou de uma conspiração para matar Toba, imperador de 1107 a 1123. Ela teria sido uma das cortesãs de Toba e usou artifícios para deixá-lo doente.

Mais tarde, um astrólogo expôs o que considera a verdadeira identidade de Tamamo-no-Mae: um espírito na forma de uma raposa de sete caudas. Em outros períodos da história, o mesmo espírito já teria se aproximado de outros líderes japoneses para prejudicá-los. Após ser vítima da raposa, Toba enviou homens para matá-la, mas ela encontrou refúgio se incrustando na pedra em Nasu.

Desde então, diz a mitologia, a rocha passou a liberar um gás venenoso que matava tudo o que tocava. Outra parte da lenda diz que um monge budista a exorcizou e destruiu, mas muitos japoneses não consideram esse trecho da história, por isso a "pedra da morte" nas montanhas Nasu é considerada o objeto real da lenda.

Ao conhecer a história, fica mais fácil entender o frenesi causado pela imagem da rocha partida. Muitos acreditam que o espírito da raposa se libertou e está novamente vagando pelo Japão.

(<https://noticias.uol.com.br/internacional>, 09.03.2022. Adaptado)

03. As informações da notícia permitem concluir corretamente que

- (A) os turistas passaram a dizer que o espírito da raposa se libertou para avivar a lenda da pedra *sessho-seki*.
- (B) os japoneses atualmente deixaram de considerar a lenda da pedra *sessho-seki*, por isso sua rachadura foi ignorada.
- (C) a rachadura na pedra *sessho-seki* causou grande agitação entre os japoneses, devido à lenda que a envolve.
- (D) a maioria dos japoneses continua acreditando que um monge budista exorcizou a *sessho-seki* e a destruiu.
- (E) o fato de a pedra *sessho-seki* rachar impressionou os turistas, mas passou despercebido pelos japoneses.

04. Observe as passagens do texto:

- A cidade de Nasu, no Japão, **recebe** turistas diariamente em suas montanhas vulcânicas... (1º parágrafo)
- Ela **teria sido** uma das cortesãs de Toba e usou artifícios para deixá-lo doente. (2º parágrafo)

As formas verbais destacadas expressam, correta e respectivamente:

- (A) hipótese; ação habitual.
- (B) ação habitual; hipótese.
- (C) ação acabada; ação habitual.
- (D) ação habitual; ação acabada.
- (E) ação acabada; hipótese.

05. Na voz passiva, a ênfase do enunciado recai no alvo da ação e não em quem a pratica. Isso pode ser comprovado com o seguinte enunciado do texto:

- (A) ... mas ela encontrou refúgio se incrustando na pedra em Nasu. (3º parágrafo)
- (B) ... a rocha passou a liberar um gás venenoso que matava tudo o que tocava. (4º parágrafo)
- (C) ... mulher que participou de uma conspiração para matar Toba... (2º parágrafo)
- (D) ... visitantes encontraram a famosa rocha partida em dois pedaços... (1º parágrafo)
- (E) ... a “pedra da morte” nas montanhas Nasu é considerada o objeto real da lenda. (4º parágrafo)

06. Assinale a alternativa que atende à norma-padrão de colocação pronominal.

- (A) Libertou-se, com a rocha partida, o espírito da raposa, o qual está novamente vagando pelo Japão.
- (B) Nos últimos dias, muitas pessoas têm preocupado-se com a pedra *sessho-seki*, que está rachada.
- (C) De acordo com a lenda, se a pedra *sessho-seki* se quebrassem, o espírito da raposa libertaria-se.
- (D) O espírito da raposa, que já aproximou-se de líderes japoneses, seria a verdadeira identidade de Tama-no-Mae.
- (E) Em Nasu, muitos turistas diariamente dirigem-se às montanhas vulcânicas, para ver “a pedra da morte”.

07. Na cidade de Nasu, os turistas são \_\_\_\_\_. Eles normalmente vão \_\_\_\_\_ montanhas vulcânicas e \_\_\_\_\_ “a pedra da morte”. No sábado, os visitantes que chegaram \_\_\_\_\_ local encontraram essa famosa rocha partida em dois pedaços. Agora muitos receiam \_\_\_\_\_ alguma “força maligna” tenha escapado de lá.

De acordo com a norma-padrão, as lacunas do enunciado devem ser preenchidas, correta e respectivamente, com:

- (A) bem vindos ... a ... veem ... no ... de que
- (B) bem-vindos ... as ... veem ... no ... que
- (C) bem vindos ... à ... vêm ... ao ... que
- (D) bem-vindos ... às ... veem ... ao ... que
- (E) bem-vindos ... às ... vêm ... no ... de que

Leia o texto para responder às questões de números 08 a 10.

### *Selvageria esportiva*

Episódios de violência envolvendo torcedores de futebol, dentro ou fora das arenas esportivas, são uma antiga e deplorável rotina no Brasil. Brigas organizadas pela internet, confrontos no transporte público e agressões variadas se sucedem, não raro provocando mortes.

Foi o que aconteceu em Belo Horizonte em 06.03.2022, um domingo em que as duas principais agremiações mineiras disputaram uma partida pelo campeonato estadual.

Não foi o único enfrentamento deste ano, que vai acumulando uma série preocupante de casos em diferentes localidades.

Diante de tal realidade, cabe perguntar por que dirigentes da área esportiva e autoridades da segurança pública não tomam as medidas necessárias para encerrar ou pelo menos conter esses torneios de estupidez agressiva.

O mais exasperante é que depois de experiências bem-sucedidas na Europa, em especial no Reino Unido, o Brasil conseguiu avançar na aprovação de leis voltadas para a violência no esporte.

Lamentavelmente, o Estatuto do Torcedor, que prevê punições severas, não é aplicado. Essa é a diferença entre o que acontece no Brasil e em países europeus.

Não é aceitável que esse estado de coisas perdure. Nada justifica que os responsáveis pela organização do futebol e pelas instituições públicas abordem o assunto de modo negligente, como se esse tipo de truculência fosse parte de uma realidade imutável.

(Editorial, *Folha de S.Paulo*, 11.03.2022. Adaptado)

08. O editorial defende que o Brasil

- (A) tome países europeus como exemplos de combate à violência no futebol e aprove leis mais severas para evitá-la.
- (B) seja menos conivente com a violência no futebol e aplique punições severas aos envolvidos para coibi-la.
- (C) poupe os dirigentes da área esportiva e as autoridades da segurança pública pela violência no futebol.
- (D) reforce as práticas truculentas para minimizar a violência no futebol, como vêm fazendo os países europeus.
- (E) deixe de aplicar o Estatuto do Torcedor para conter a violência no futebol, pois este é um documento defasado.

09. Na passagem – **Essa** é a diferença entre o que acontece no Brasil e em países europeus. (6º parágrafo) –, o pronome destacado tem função coesiva, referindo-se à

- (A) criação de um estatuto para conter a violência esportiva.
- (B) agilidade na aplicação de punições no esporte.
- (C) falta de aplicação de punições severas no esporte.
- (D) aprovação de leis voltadas para a violência no esporte.
- (E) ausência de leis para punir a violência esportiva.

10. Assinale a alternativa que atende à norma-padrão de concordância.

- (A) Os torneios de estupidez agressiva vivenciados devem deixar de ser vistos como uma realidade imutável.
- (B) Não se admitem que países como Brasil e Reino Unido, onde o futebol é paixão nacional, ignore a violência esportiva.
- (C) De acordo com o Estatuto do Torcedor, punições severas deveria ser aplicado nos casos de violência no esporte.
- (D) As situações de violência no esporte são muito preocupante, pois vem se acumulando ao longo deste ano.
- (E) Aconteceu experiências bem-sucedidas de combate à violência esportiva na Europa, em especial no Reino Unido.

## RACIOCÍNIO LÓGICO-MATEMÁTICO

11. Um trem do metrô está em movimento e em um dos vagões há 175 passageiros. Há assentos para  $\frac{2}{7}$  des-

ses passageiros e estão todos ocupados. Ao parar na estação seguinte, 23 pessoas desembarcam, sendo que, destas 23 pessoas, 12 estavam anteriormente sentadas. Outras 5 pessoas embarcaram e, quando o trem reiniciou sua viagem, havia apenas 3 assentos não ocupados. Nesse momento o número de pessoas que não ocupavam assentos é igual a

- (A) 125.
- (B) 110.
- (C) 112.
- (D) 98.
- (E) 115.

12. Carlos, Luciana e Jonas fizeram um total de 58 horas extras. Carlos fez uma hora extra a mais que a metade das que Luciana tinha feito. Jonas fez 4 horas extras a mais do que Carlos. O total das horas extras de Carlos e Jonas supera o número feito por Luciana em

- (A) 3.
- (B) 5.
- (C) 7.
- (D) 4.
- (E) 6.

13. Um terreno retangular tem o lado maior com 5 metros a mais que o lado menor. A prefeitura exige que haja um recuo em cada lado para realizar construções. Realizando os recuos obrigatórios, o proprietário perde 75 m<sup>2</sup> da área do terreno para a construção da casa. Essa perda corresponde à décima parte da área total do terreno. Com essas informações, é correto afirmar que a medida do contorno desse terreno é, em metros, igual a

- (A) 110.
- (B) 120.
- (C) 115.
- (D) 100.
- (E) 105.

14. O estoque de enfeites grandes em uma loja é de 40 unidades. Com esse número, a razão entre a quantidade de enfeites grandes e a quantidade de enfeites pequenos é  $\frac{2}{75}$ . Chegarão na loja 600 enfeites pequenos já enco-

mendados. Para ficar tranquilo com o estoque desses materiais, o dono da loja quer que a razão entre a quantidade de enfeites grandes e a quantidade de enfeites pequenos seja  $\frac{1}{25}$  e, para isso acontecer, ele precisará

comprar uma quantidade de enfeites grandes igual a

- (A) 28.
- (B) 16.
- (C) 44.
- (D) 50.
- (E) 32.

15. Lucas e Luiza fizeram a viagem de A até B em 2 horas e 40 minutos, com uma velocidade W. Na volta, percorrendo exatamente a mesma distância, o tempo de viagem foi de 2 horas, com uma velocidade Z. Considere que velocidade é a razão entre a distância percorrida e o tempo gasto para percorrê-la. Sendo assim, a razão entre W e Z é igual a

- (A) 1,50.
- (B) 0,75.
- (C) 0,25.
- (D) 0,50.
- (E) 1,333... .

16. Em um terreno retangular de largura de 15 m e comprimento de 20 m, será construída uma piscina com superfície em formato triangular com estas medidas: a medida da base do triângulo é exatamente  $\frac{2}{3}$  da medida da

largura do terreno, e a medida da altura do triângulo é  $\frac{1}{4}$

da medida do comprimento do terreno. Construída a piscina, sobra do terreno para outros usos a área, em  $m^2$ , igual a

- (A) 290.
- (B) 250.
- (C) 245.
- (D) 275.
- (E) 255.

17. Uma determinada marca de tinta anuncia que um galão (3,6 L) tem um rendimento de  $80 \text{ m}^2$  por aplicação. Um pintor tem uma empreitada de  $3\,600 \text{ m}^2$  a serem pintados com duas aplicações de tinta em cada local. Ele comprará a tinta em latas de 18 L. O menor número de latas que ele precisará comprar para realizar a pintura descrita é

- (A) 84.
- (B) 90.
- (C) 36.
- (D) 18.
- (E) 72.

18. A afirmação que, do ponto de vista lógico, nega a afirmação “Todos os cães são amarelos e nenhum gato é branco” é:

- (A) Há pelo menos um cão amarelo e pelo menos um gato é branco.
- (B) Nenhum cão é amarelo ou todos os gatos são brancos.
- (C) Alguns cães não são amarelos e alguns gatos não são brancos.
- (D) Nenhum cão é amarelo e todos os gatos não são brancos.
- (E) Nem todos os cães são amarelos ou existe gato que é branco.

19. Em uma enquete, na qual se investigava se as pessoas se alimentavam dos alimentos A, B, e C, os participantes poderiam indicar um dos alimentos, dois dos alimentos ou os três alimentos. Alguns resultados da enquete foram:

- Em cada uma das possíveis escolhas de apenas um dos alimentos houve 5 votos;
- Em cada uma das possíveis escolhas de dois, e apenas dois, dos alimentos, houve 10 votos;
- Houve 15 votos de participantes que votaram exatamente nos três alimentos.

O total de pessoas que participaram dessa enquete foi igual a

- (A) 45.
- (B) 15.
- (C) 30.
- (D) 75.
- (E) 60.

20. Um usuário está editando um texto no Bloco de Notas do Microsoft Windows 10, em sua configuração original. Porém, quando ele tenta salvar o arquivo com o nome de Controle:2010.Janeiro.txt, o Bloco de Notas não permite e apresenta uma mensagem de erro. Isso acontece porque o
- (A) nome do arquivo não pode conter números.
  - (B) caractere dois pontos (:) não é aceito pelo Windows em nomes de arquivos.
  - (C) nome do arquivo é maior do que 8 caracteres.
  - (D) Bloco de Notas só aceita .txt e não .Janeiro.txt.
  - (E) nome do arquivo não pode conter letras maiúsculas.

21. No Microsoft Windows 10, em sua configuração padrão, existe uma pasta chamada C:\PROJETOS\ALESP\2021 com 4 arquivos: arquivo1.txt, arquivo2.txt, arquivo3.txt e arquivo4.txt. Um usuário executou as seguintes ações:
- I. selecionou o arquivo1.txt e pressionou CTRL+X;
  - II. selecionou o arquivo2.txt e pressionou CTRL+X;
  - III. com a tecla CTRL pressionada, selecionou o arquivo3.txt e pressionou CTRL+X;
  - IV. com a tecla CTRL pressionada, selecionou o arquivo4.txt e pressionou CTRL+X;
  - V. pressionou a tecla ESC.

Assinale a alternativa que indica quais arquivos estão na Área de Transferência.

- (A) Nenhum arquivo.
- (B) O arquivo4.txt, apenas.
- (C) O arquivo1.txt, apenas.
- (D) O arquivo2.txt, apenas.
- (E) O arquivo2.txt, o arquivo3.txt e o arquivo4.txt, apenas.

22. Em um documento vazio, sem qualquer formatação, usando o Microsoft Word 2016 em sua configuração original, um usuário digitou Assembleia. Em seguida pressionou espaço, clicou no ícone Negrito e digitou Legislativa. Pressionou espaço novamente, clicou no ícone Negrito e digitou de. Repetiu a operação pressionando espaço, clicando no ícone Negrito e digitou São. Para finalizar, pressionou espaço mais uma vez, clicou no ícone Negrito e digitou Paulo. Assinale a alternativa que apresenta o resultado correto dessa operação.

- (A) **Assembleia Legislativa de São Paulo**
- (B) Assembleia Legislativa de São Paulo
- (C) **Assembleia Legislativa** de São Paulo
- (D) Assembleia **Legislativa** de **São Paulo**
- (E) Assembleia **Legislativa de São Paulo**

23. Em um documento vazio, sem qualquer formatação, usando o Microsoft Word 2016 em sua configuração original, um usuário configurou o efeito da fonte de letra conforme apresentado na imagem a seguir, parcialmente exibida.



Assim, ao ligar a tecla CapsLock e digitar Assembleia, desligar a tecla CapsLock e digitar Legislativa de, e ligar novamente a tecla CapsLock e digitar São Paulo, o resultado é

- (A) Assembleia Legislativa de SÃO PAULO
  - (B) Assembleia Legislativa de São Paulo
  - (C) ASSEMBLEIA LEGISLATIVA DE SÃO PAULO
  - (D) Assembleia LEGISLATIVA DE SÃO PAULO
  - (E) ASSEMBLEIA Legislativa de SÃO PAULO
24. Tem-se a seguinte planilha, criada no Microsoft Excel 2016, em sua configuração padrão.

	A	B
1	1	1
2	2	2
3	3	3
4	4	4
5	2,5	2,5

A célula A5 contém a função =MÉDIA(A1:A4) e a célula B5 contém a fórmula =(B1+B2+B3+B4)/4. Se o usuário selecionar a linha 4 por completo, adicionar uma nova linha, a planilha ficará com o seguinte formato.

	A	B
1	1	1
2	2	2
3	3	3
4		
5	4	4
6	2,5	2,5

Ao inserir-se o conteúdo 5 nas células A4 e B4, qual resultado será exibido nas células A6 e B6?

- (A) 2,5 e 2,5
- (B) 3 e 2,5
- (C) 3 e #ERRO
- (D) 2,5 e 3
- (E) 3 e 3

25. Tem-se a seguinte planilha, criada no Microsoft Excel 2016, em sua configuração padrão, na qual a célula A4 contém a função =MENOR(A1:C2;X), em que X é um parâmetro.

	A	B	C
1	1	-2	0
2	-1	3	5
3			
4	-2		

Assinale a alternativa com o formato correto da função que substitui o X por um valor e retorna -2, como apresentado na célula A4.

- (A) =MENOR(A1:C2;1)  
 (B) =MENOR(A1:C2;0)  
 (C) =MENOR(A1:C2;<0)  
 (D) =MENOR(A1:C2;6)  
 (E) =MENOR(A1:C2;-1)
26. João telefonou para Maria alegando não ter recebido uma importante mensagem de correio eletrônico que Maria deveria ter enviado. Maria investigou e notou que, usando seu Microsoft Outlook 2016, em sua configuração padrão, realmente a mensagem havia sido redigida e foi gravada (salva), mas Maria não havia clicado no botão Enviar ainda. Isso significa que Maria encontrou a mensagem na pasta
- (A) Caixa de Saída.  
 (B) Mensagens a enviar.  
 (C) Rascunhos.  
 (D) Caixa de Entrada.  
 (E) Itens Enviados.
27. Navegando na Internet por meio do navegador Google Chrome versão 99, em sua configuração padrão, um usuário abriu um *website* e a barra de endereços ficou com a aparência da imagem a seguir.



O cadeado indica que o site tem como prefixo

- (A) sso://  
 (B) http://  
 (C) www://  
 (D) url://  
 (E) https://

## REDAÇÃO OFICIAL

28. Procure perceber certa hierarquia de ideias que existe em todo texto de alguma complexidade: as fundamentais e as secundárias. Essas últimas podem esclarecer o sentido daquelas, detalhá-las, exemplificá-las; mas existem também ideias secundárias que não acrescentam informação alguma ao texto, nem têm maior relação com as fundamentais, podendo, por isso, ser dispensadas. O leitor deve ser conduzido ao contato mais direto com o assunto e com as informações, sem subterfúgios, sem excessos de palavras e de ideias.

(Manual de Redação da Presidência da República. Adaptado)

As informações dizem respeito à seguinte característica da redação oficial:

- (A) coesão.  
 (B) objetividade.  
 (C) impessoalidade.  
 (D) formalidade.  
 (E) padronização.

Leia o texto para responder às questões de números 29 e 30.

São Paulo, 27 de janeiro de 1998.

Ref.: Processo RG Nº 0000

Prezado Senhor

Tendo em vista a Decisão nº 1111/97, da Mesa Diretora deste Poder, datada de 03 de novembro de 1997 e publicada no Diário Oficial do Estado de 04 de novembro de 1997, que aposenta a Senhora LORRAINE DE TAL, RG Nº 0.000.000-0, no cargo de Agente Técnico Legislativo, encaminho a \_\_\_\_\_ o processo em epígrafe, da referida aposentadoria, para submetê-lo ao exame dos Excelentíssimos Senhores Conselheiros desse Colendo Tribunal.

\_\_\_\_\_  
 JOSÉ CARLOS GONÇALVES  
 Secretário Geral de Administração

Ilmo. Senhor

Doutor SÉRGIO CIQUERA ROSSI

Secretário-Diretor Geral do Tribunal de Contas do Estado

Avenida Rangel Pestana, nº 315 – São Paulo – SP 01017-906

(Manual de redação administrativa da Assembleia Legislativa do Estado de São Paulo. Adaptado)

29. Conforme sua composição e estrutura, o documento corresponde a
- (A) um ofício.  
 (B) um memorando.  
 (C) um requerimento.  
 (D) uma ata.  
 (E) uma carta.



30. Com base nos interlocutores definidos no documento, as lacunas do texto devem ser preenchidas, correta e respectivamente, com:

- (A) Sua Senhoria ... Atenciosamente
- (B) Vossa Excelência ... Atenciosamente
- (C) Vossa Magnificência ... Respeitosamente
- (D) Vossa Senhoria ... Atenciosamente
- (E) Sua Excelência ... Respeitosamente

31. De acordo com o Manual de Redação da Presidência da República, a mensagem é uma comunicação que ocorre entre

- (A) o Poder Legislativo e a população.
- (B) Secretários Estaduais e o Poder Legislativo.
- (C) a população e o Poder Judiciário.
- (D) Prefeitos e Secretários Municipais.
- (E) os Chefes dos Poderes Públicos.

32. A presente tem a finalidade de apresentar o relatório que foi desenvolvido entre os meses de julho e dezembro de 2021, no qual constam as despesas deste departamento. Seguem em anexo as cópias dos recibos.

Garante-se a concisão do texto apresentado com a seguinte reescrita:

- (A) Apresentamos o relatório de 2021, no qual constam as despesas. Aproveitamos esta ocasião seguem anexo as cópias dos recibos.
- (B) Esta tem a finalidade de apresentar o relatório desenvolvido entre os meses de julho e dezembro de 2021, das despesas deste departamento. Seguem anexas as cópias dos recibos.
- (C) Apresenta-se o relatório que se desenvolveu entre os meses de julho e dezembro de 2021, no qual constam as despesas deste departamento. Seguem em anexo as cópias dos recibos.
- (D) A finalidade desta é apresentar o relatório que este departamento desenvolveu entre julho e dezembro de 2021, com as suas despesas deste departamento. Em anexo, as fotocópias dos recibos.
- (E) Apresentamos o relatório desenvolvido no segundo semestre de 2021, no qual constam as despesas deste departamento. Seguem as cópias dos recibos.


33. Um documento no padrão ofício deve apresentar

- (A) o nome da cidade onde se expediu o documento, com a sigla da unidade da federação.
- (B) as informações do expediente em letras minúsculas e todas centralizadas.
- (C) o tipo de expediente por extenso, com todas as letras maiúsculas.
- (D) a palavra "Número" por extenso, iniciada com letra maiúscula.
- (E) as siglas do setor no documento, organizadas da maior para a menor hierarquia.

34. Um exemplo de texto encaminhado a uma autoridade pública, dentro dos padrões de formalidade, padronização e impessoalidade, é:

- (A) Fico pensando se, no lugar dessas avaliações por questionários, a turma deste Setor pudesse abrir o jogo com a direção sobre os problemas que tem.
- (B) Parece que caiu mal a avaliação em um momento em que funcionários se mostram ansiosos e vulneráveis a problemas externos que fogem ao controle.
- (C) O grupo de funcionário considerou a avaliação deles nada a ver, porque sentiram que faltou empatia na organização dos questionários profissionais.
- (D) Realizamos a análise dos resultados das avaliações, conforme solicitado por Vossa Senhoria, e disponibilizamos o relatório detalhado a este Setor.
- (E) Analisando as avaliações dos funcionários, chegou a ser cômico o fato de muitos deles não conseguirem entender questões tão banais da própria área.


35. Considere as informações apresentadas.

  
[Nome do órgão]  
[Secretaria/Departamento]  
[Setor/Entidade]  
[Endereço]


OFÍCIO Nº 257/2018/CODOC/CC

Brasília, 3 de março de 2018.

1



2



À Senhora  
[Nome]  
Diretora de Tecnologia da Presidência da República  
Palácio do Planalto, Anexo II, Ala B, sala 100  
Brasília/DF

(Manual de Redação da Presidência da República. Adaptado)

Em um documento padrão ofício, as informações indicadas pelas setas 1 e 2 correspondem, correta e respectivamente, ao

- (A) expediente e ao endereçamento.
- (B) cabeçalho e ao endereçamento.
- (C) endereçamento e ao expediente.
- (D) cabeçalho e ao expediente.
- (E) expediente e ao signatário.

## CONHECIMENTOS ESPECÍFICOS

### NOÇÕES DE DIREITO ADMINISTRATIVO

36. O Secretário de Obras do Município X, engenheiro civil de formação, mas dedicado exclusivamente à política partidária nos 30 anos anteriores à sua posse como Secretário Municipal, ao se deparar com sugestão da área técnica da Secretaria acerca da técnica construtiva a utilizar em determinada obra, conforme projeto de engenharia desenvolvido e que demonstrava ser aquela a técnica mais segura para a população e barata para a Prefeitura, ordena que a área técnica recontrate o projeto, deixando claro que o novo projeto deverá considerar a utilização de outra técnica construtiva, à qual o Secretário está acostumado desde os seus tempos de aluno de engenharia, nos anos 1960, e para a qual tem certeza de que haverá ao menos uma empreiteira interessada em prestar o serviço (a empreiteira de seu cunhado). Em decorrência dessa determinação, o processo de contratação da obra deverá sofrer atraso de 6 a 12 meses, e os custos relacionados à obra deverão sofrer acréscimo de 40 a 60% em relação ao projetado originalmente. A respeito dessa situação específica e considerando os princípios da Administração Pública previstos na Constituição Federal, é correto afirmar que
- (A) o Secretário agiu corretamente, pois a utilização de técnica de construção experimental poderia resultar em danos à população do município.
  - (B) o Secretário violou com a sua ação os princípios da Administração Pública da eficiência e da impessoalidade.
  - (C) o Secretário atuou de maneira a conferir plena eficácia aos princípios da Administração Pública da legalidade e da moralidade.
  - (D) o Secretário violou com a sua ação os princípios da Administração Pública da vedação ao nepotismo e da efetividade administrativa.
  - (E) o Secretário agiu corretamente, pois cabe a ele estabelecer os detalhes técnicos das contratações realizadas pela sua Secretaria.
37. A respeito do chamado “poder de polícia administrativa”, assinale a alternativa correta.
- (A) Com o advento do Estado social e a ampliação das funções estatais, o poder de polícia passou a ser também instrumento de persecução de interesses coletivos voltados à melhoria das condições socioeconômicas e à promoção do bem-estar da sociedade.
  - (B) O poder de polícia administrativa é aquele que, em contraposição ao exercício da polícia militarizada, destina-se à investigação dos ilícitos penais, em auxílio do desempenho da função jurisdicional pelo Estado.
  - (C) O exercício do poder de polícia administrativa coincide com o papel de agente regulador da economia desempenhado pelo Estado Democrático neoliberal instalado após o projeto de Reforma do Estado aprovado nos anos 1990.
  - (D) A missão primordial do exercício do poder de polícia é o asseguramento da ordem econômica e tributária, privilegiando-se as garantias constitucionais à livre iniciativa e ao empreendedorismo cidadão.
  - (E) O exercício do poder de polícia administrativa pressupõe a criação pela Administração de limitações aos direitos e liberdades individuais não previstas inicialmente na lei, em respeito aos interesses da coletividade.
38. Com relação ao tema dos atos administrativos, assinale a alternativa que relaciona corretamente o conceito à sua definição.
- (A) Anulação: é o ato administrativo que põe fim à vigência de outro ato administrativo até então válido, por motivos de conveniência ou oportunidade, respeitados os direitos adquiridos.
  - (B) Anulação: é a decisão que confirma a validade de ato eivado de vício sanável na qual se evidencie não acarretar lesão ao interesse público nem prejuízo a terceiros.
  - (C) Convalidação: é a decisão que confirma a validade de ato eivado de vício insanável na qual se evidencie não acarretar lesão ao interesse público nem prejuízo a terceiros.
  - (D) Discricionariedade: é o conjunto de razões de fato e de direito que justificam a adoção de determinado ato pela Administração.
  - (E) Revogação: é o ato administrativo que põe fim à vigência de outro ato administrativo até então válido, por motivos de conveniência ou oportunidade, respeitados os direitos adquiridos.

39. No ano de 1998, a Emenda Constitucional nº 19 visou transformar sensivelmente o regime jurídico aplicável aos servidores públicos e à Administração Pública no Brasil. A esse respeito, é correto afirmar que
- (A) a Emenda Constitucional nº 19 estabeleceu a necessidade de observância de regime jurídico único para todos os servidores e empregados públicos no país.
  - (B) foi por meio da Emenda Constitucional nº 19 que o chamado princípio da “efetividade administrativa” ganhou estatura constitucional.
  - (C) a referida Emenda Constitucional modificou a espécie normativa exigida para a regulamentação infraconstitucional do direito à greve dos servidores públicos civis, estabelecendo que se dará por meio de lei ordinária específica.
  - (D) foi por intermédio desta Emenda Constitucional que se estabeleceu a proibição ao pagamento dos proventos de servidores civis do Poder Executivo e Legislativo por meio de subsídio em parcela única.
  - (E) a referida emenda teve a sua validade totalmente afastada por decisão definitiva do plenário do Supremo Tribunal Federal.
40. A respeito do modo de ingresso em cargo ou emprego público no Brasil, é correto afirmar, com base na Constituição Federal, que
- (A) o prazo de validade do concurso público será de, no máximo, um ano, prorrogável uma vez, por igual período.
  - (B) os cargo em comissão declarados em lei de livre nomeação e exoneração apenas podem ser preenchidos por servidores públicos efetivos, ao contrário das chamadas “funções de confiança”.
  - (C) o ingresso em cargo público exige prévia aprovação em concurso público de provas e títulos, exigência não aplicável aos empregos públicos.
  - (D) aquele aprovado em concurso público será convocado com prioridade sobre novos concursados para assumir cargo ou emprego na carreira, desde que durante o prazo improrrogável previsto no edital do concurso.
  - (E) os empregados públicos, por não gozarem de estabilidade como os servidores públicos, são demissíveis *ad nutum*, não sendo necessária a motivação da sua demissão.
41. É exemplo das chamadas “cláusulas exorbitantes” nos contratos administrativos:
- (A) o direito à rescisão unilateral do contrato pela Administração Pública.
  - (B) o direito à rescisão unilateral do contrato pelo contratado.
  - (C) o direito à modificação unilateral do contrato para atendimento dos interesses da Administração Pública, ainda que com alteração do escopo inicialmente contratado.
  - (D) a exigência de que todos os contratos públicos sejam formalizados por meio de documento escrito precedido de processo administrativo.
  - (E) a exigência de que todos os contratos administrativos sejam precedidos de licitação pública.

#### NOÇÕES DE DIREITO CONSTITUCIONAL

42. Constitui objetivo fundamental da República Federativa do Brasil, segundo a Constituição Federal de 1988, dentre outros:
- (A) a dignidade da pessoa humana.
  - (B) solução pacífica dos conflitos.
  - (C) repúdio ao terrorismo e ao racismo.
  - (D) independência nacional.
  - (E) promover o bem de todos, sem preconceitos de origem, raça, sexo, cor, idade e quaisquer outras formas de discriminação.
43. Assinale a alternativa que reflete dispositivo constitucional diretamente vinculado à chamada “garantia à liberdade de expressão”:
- (A) “é livre a manifestação do pensamento, sendo vedado o anonimato.”
  - (B) “ninguém será privado de direitos por motivo de crença religiosa ou de convicção filosófica ou política.”
  - (C) “homens e mulheres são iguais em direitos e obrigações, nos termos desta Constituição.”
  - (D) “é assegurado a todos o acesso à informação, sendo vedado o sigilo da fonte.”
  - (E) “é inviolável a liberdade de consciência e de crença, sendo assegurado o livre exercício dos cultos religiosos.”

44. Quanto aos direitos sociais previstos no art. 7º da Constituição Federal de 1988, é correto afirmar que
- (A) é constitucional lei que vincule o valor do salário mínimo nacional à variação do preço da gasolina nos postos de combustíveis.
  - (B) cabe à legislação infraconstitucional, observadas as regras de competência, a disciplina da extensão aos servidores públicos civis dos direitos sociais estabelecidos no art. 7º do Texto Constitucional.
  - (C) viola a Constituição o estabelecimento de remuneração inferior ao salário mínimo para as praças prestadoras de serviço militar inicial.
  - (D) a Constituição não prevê o direito ao seguro-desemprego, em caso de desemprego involuntário, mas apenas a legislação infraconstitucional.
  - (E) o rol de garantias do art. 7º da Constituição exaure a proteção jurídica aos direitos sociais.
45. Sobre os partidos políticos, é correto afirmar, com base na Constituição Federal, que
- (A) somente terão direito a recursos do fundo partidário e acesso gratuito ao rádio e à televisão, na forma da lei, os partidos políticos que tiverem eleito pelo menos quinze deputados federais.
  - (B) os parlamentares que se desligarem do partido pelo qual tenham sido eleitos perderão, em qualquer situação, o respectivo mandato.
  - (C) não estão os partidos obrigados à vinculação entre as candidaturas em âmbito nacional, estadual, distrital ou municipal.
  - (D) é facultada aos partidos a celebração de coligações partidárias nas eleições proporcionais.
  - (E) os partidos políticos, após adquirirem personalidade jurídica, na forma da lei civil, registrarão seus estatutos na Junta Comercial.
46. O processo legislativo, conforme previsto no texto constitucional, compreende a elaboração, dentre outras espécies normativas, de
- (A) resoluções.
  - (B) leis suplementares.
  - (C) medidas exorbitantes.
  - (D) atos institucionais.
  - (E) decretos executivos.
47. As emendas ao projeto de lei do orçamento anual ou aos projetos que o modifiquem podem ser aprovadas, dentre outras situações, caso
- (A) indiquem como contrapartida para a criação de nova despesa a anulação da previsão de gastos com a dívida pública.
  - (B) sejam incompatíveis com o plano plurianual.
  - (C) se destinem ao cumprimento do teto constitucional de despesas.
  - (D) sejam relacionadas com a correção de erros ou omissões.
  - (E) se destinem a ampliar os recursos dedicados a áreas prioritárias.

#### NOÇÕES DE ADMINISTRAÇÃO PÚBLICA

48. Dentre as problemáticas da coordenação federativa brasileira, sobretudo a partir da nova configuração advinda da Constituição Federal de 1988, a literatura especializada relata como uma das principais a ocorrência do federalismo compartimentalizado, situação na qual
- (A) há a abundância de legislações sobre as competências e atribuições dos entes.
  - (B) há a impossibilidade de políticas executadas em consonância pelos três entes.
  - (C) há a perda da autonomia decisória e da capacidade de autofinanciamento dos entes.
  - (D) há um grande incentivo à centralização, esvaziando o poder decisório do ente subnacional.
  - (E) há a falta de incentivos para cooperação e atuação conjunta entre os entes.

49. Leia o trecho da notícia a seguir e responda ao que se pede.

*89% das empresas não recebem apoio financeiro para inovação*

Segundo dados da Confederação Nacional da Indústria, 89% das empresas têm que custear por conta própria seus programas de pesquisa e desenvolvimento de projetos ligados à inovação. Entre as 196 empresas ouvidas, apenas 10% receberam investimentos de instituições públicas, e 3%, de instituições particulares. Mesmo com a falta de investimentos, a pesquisa indica que cresceu em 5% a fatia de empresas que desenvolveram novos processos ou produtos em 2020 em comparação com 2019.

(LinkedIn Notícias, 2022)

Do ponto de vista do estado gerencialista, é correto afirmar:

- (A) na perspectiva estratégica, como projetos de inovação não são atividades exclusivas do Estado, o financiamento governamental para empresas é proibido por lei.
  - (B) uma política fiscal alinhada aos princípios gerencialistas considera essa influência nas atividades empresariais algo benéfico, desde que realizada por meio de chamamentos públicos.
  - (C) o foco nos resultados preconizado no Plano Diretor da Reforma do Aparelho do Estado visa eliminar políticas de financiamento para empresas privadas.
  - (D) considerando os impactos socioeconômicos e ambientais promovidos por inovações, cabe ao Estado estabelecer políticas de financiamento para empresas privadas.
  - (E) a capacidade de promover inovações cabe aos entes não governamentais, devendo o Estado abdicar de qualquer ação realizada nesse sentido.
50. A estrutura organizacional brasileira, regulamentada por meio da Constituição Federal de 1988, atribui uma série de competências comuns, exclusivas, privativas e concorrentes que impactam diretamente na dinâmica federalista estabelecida entre União, estados e municípios. Sobre o tema, é correto afirmar:
- (A) a centralização de poder e competências é mantida na lógica federalista fundamentada na Constituição Federal de 1988, ainda que haja a regulamentação sobre temas e ações de responsabilidade local.
  - (B) devido às dificuldades de arrecadação local, muitos municípios dependem dos repasses federais, tornando-se dependentes da União.
  - (C) com a necessidade de repasses constitucionais para a execução de políticas públicas locais, há a evidente perda de autonomia financeira dos entes subnacionais.
  - (D) por conta das características federalistas, a União é o principal indutor de políticas públicas, sobrepondo-se legalmente aos interesses locais.
  - (E) as previsões legais permitem que haja desalinhamento entre as orientações de políticas públicas entre os diferentes entes, havendo a ruptura do pacto federativo.

51. Diante da complexidade e multiplicidade das demandas sociais, a relevância de processos gerenciais adequados à administração pública ficam cada vez mais evidentes, exigindo preparo e conhecimentos de diferentes técnicas e ferramentas. Dentre as alternativas a seguir, assinale aquela que se refere à ferramenta utilizada para identificação de problemas e sua causalidade.

- (A) Árvore de problemas.
- (B) Estrutura analítica do projeto.
- (C) Árvore de objetivos.
- (D) Método OKR.
- (E) Análise SWOT.

52. Foco no cidadão e qualidade do serviço público são características essenciais para uma gestão pública moderna e contemporânea, tornando os serviços compatíveis com as necessidades e expectativas dos cidadãos. Entre as ações a seguir, está correta em relação ao alcance de tais características gerencialistas:

- (A) implementação de treinamento para servidores, como forma de garantir uma postura mais paternalista no atendimento ao público.
- (B) robotização da conduta dos agentes públicos para atendimento dos cidadãos.
- (C) criação de sistemática de avaliação de serviços públicos por parte do cidadão.
- (D) automatização de todos os processos administrativos relacionados ao atendimento ao público, eliminando o contato do cidadão com os agentes públicos.
- (E) elaboração de legislações e processos mais rígidos para prestação de serviços públicos.

53. Um gestor público contemporâneo deve possuir habilidades de *hard skills* e *soft skills*, justamente para que, ao mesmo tempo em que realiza uma boa gestão de projetos e análise de risco do ponto de vista técnico, possa realizar boas negociações, estabelecer consensos e mediação entre diferentes *stakeholders* envolvidos em determinada ação pública. Tais elementos pressupõem uma gestão baseada em competências, com o intuito de

- (A) reforçar os ideais do modelo neoinstitucionalista e o método de escolhas racionais.
- (B) reforçar, por meio da liderança técnica, a abordagem pautada na hierarquia.
- (C) promover uma gestão participativa, em contraponto ao modelo gerencialista.
- (D) permitir o uso das habilidades individuais e coletivas a partir de uma abordagem top-down.
- (E) possibilitar o desenvolvimento de ações adequadas às características de uma gestão em rede.

54. Leia o trecho da notícia a seguir.

*Emendas de relator são utilizadas para valores mais altos do que o permitido*

As emendas de relator, um tipo de gasto orçamentário, têm sido muito criticadas e consideradas como orçamento secreto. Apesar de serem destinadas a pequenos ajustes no orçamento do governo, passaram a abocanhar uma fatia relevante de recursos indicados por parlamentares – neste ano somam R\$ 16,5 bilhões. [...]

As razões podem ser “interesses políticos, regionais e até interesses, por exemplo, relacionados a uma prática de ato de corrupção”. O professor exemplifica com o caso de uma emenda referente à destinação de um recurso para uma determinada cidade, para construir uma ponte, mas cuja licitação pode ser fraudada. “Então, o parlamentar não quer assumir a autoria daquela emenda porque, depois, quando houver uma investigação, ele vai ficar como um suspeito de ter participado.” Nesse sentido, um dos problemas refere-se à falta de transparência a respeito de quem é o autor da emenda. “A falta de transparência, que foi chamada de orçamento secreto, é essa obscuridade na autoria da emenda”, afirma Conti.

(Jornal da USP, 2022)

Assinale a alternativa correta, considerando o orçamento secreto sob o ponto de vista da transparência pública.

- (A) A opção por transparência ativa ou passiva é discriminatória do poder público, adequando-se a cada realidade e necessidade.
- (B) A transparência ativa deve ser a regra para os atos governamentais, inclusive os relacionados a gastos orçamentários.
- (C) As regras entre o que deve ser divulgado mediante transparência ativa ou passiva devem ajustadas conforme interesse público e manifestações jurídicas.
- (D) Gastos orçamentários devem ser divulgados conforme a lógica da transparência passiva.
- (E) Os critérios para divulgação dos gastos orçamentários são estabelecidos nas peças orçamentárias.

## NOÇÕES DE ORÇAMENTO PÚBLICO

55. De acordo com a Lei nº 4.320/1964, o exercício financeiro coincidirá com o ano civil. Trata-se do princípio orçamentário intitulado de
- (A) periodicidade.
  - (B) totalidade.
  - (C) exclusividade.
  - (D) temporalidade.
  - (E) universalidade.
56. As etapas da receita orçamentária seguem uma ordem sistemática na qual se iniciam com a previsão e terminam com o recolhimento. No entanto, nem todas as receitas passam por todos os estágios, como é o caso das doações em espécie, que desconsideram a etapa
- (A) do recolhimento.
  - (B) do empenho.
  - (C) de classificação por natureza da receita.
  - (D) do lançamento.
  - (E) do registro em caixa.
57. Para fins contábeis, quanto ao impacto na situação patrimonial líquida, a receita pode ser “efetiva” ou “não efetiva”. A receita orçamentária “não efetiva” pode ser
- (A) aquisição de materiais para estoque.
  - (B) contribuições de melhorias.
  - (C) outras receitas de capital.
  - (D) operações de crédito.
  - (E) impostos e taxas.
58. Podem-se distinguir dois tipos de restos a pagar: os processados e os não processados. São classificados como restos a pagar processados quando
- (A) já ocorreu a licitação da referida despesa.
  - (B) as despesas foram empenhadas.
  - (C) só falta o pagamento das despesas.
  - (D) as despesas estão abaixo da receita orçamentária.
  - (E) não há disponibilidade orçamentária na administração direta.

- 59.** O empenho, segundo as normas legais do orçamento público, é um ato de responsabilidade da autoridade competente que cria ao Estado a obrigação do pagamento. Ele pode ser classificado como:
- (A) global, parcial e ordinário.
  - (B) nominal, real e global.
  - (C) estimativo, real e ordinário.
  - (D) estimativo, real e nominal.
  - (E) ordinário, estimativo e global.
- 60.** De acordo com o art. 14 da Lei de Responsabilidade fiscal (LRF), a renúncia fiscal compreende, entre outros formatos,
- (A) a anistia, o subsídio e o crédito presumido.
  - (B) o cancelamento de débito, o parcelamento da dívida e o programa de revisão tributária.
  - (C) a alteração de alíquota, o subsídio e o parcelamento da dívida pública.
  - (D) a alteração de alíquota, a concessão de isenção e o financiamento parcelado.
  - (E) a anistia, a alteração da alíquota e o parcelamento da dívida pública.

## REDAÇÃO

### TEXTO 1

O consumo de carne vem aumentando drasticamente desde a década de 1960, especialmente da década de 1980 em diante. Alguns estudos sugerem que, de 1960 a 2010, houve um aumento de 204% na oferta de produtos cárneos; outros relatam aumentos de até 500%, de 1992 até 2016.

Segundo uma pesquisa publicada na revista Science, em 2018, a quantidade média de carne consumida por pessoa globalmente quase dobrou nos últimos cinquenta anos, passando de cerca de 23 quilos em 1961 para 43 quilos em 2014. Um relatório da Organização das Nações Unidas (ONU), publicado em 2012, estima que o consumo global de carne aumente 76% até a metade do século 21, especialmente da bovina.

Mas, na prática, quais seriam os impactos dessa taxa crescente? Cientistas são praticamente unânimes ao afirmar que o consumo exacerbado de carne desempenha um papel significativo nas emissões de gases do efeito estufa. Entre as práticas agrícolas, a pecuária é um dos fatores responsáveis pelas mudanças climáticas globais, contribuindo com 12% a 18% do total das emissões de gás carbônico e metano, ocasionadas pelo desmatamento de áreas usadas para pastagens e pelo processo digestivo dos animais.

Algumas pesquisas ainda relatam diferenças significativas entre as emissões de carbono de dietas que incluem carne e dietas vegetarianas. Um estudo de 2014, por exemplo, concluiu que dietas ricas em carne emitem 7,19 equivalentes de dióxido de carbono por dia, enquanto uma dieta vegetariana emite somente 3,81 – ou seja, uma redução de quase metade das emissões de gases do efeito estufa. A diminuição é ainda menor quando se trata de dietas veganas, que emitem somente 2,89 de CO<sub>2</sub> por dia.

(“Carne: vilã para o planeta e a saúde humana?”. [www.ecycle.com.br](http://www.ecycle.com.br). Adaptado)

### TEXTO 2

As proteínas ingeridas pelo ser humano são importantes para a estrutura, a função e a regulação das células, dos tecidos e dos órgãos do corpo. As proteínas possuem funções únicas e são componentes essenciais dos músculos, da pele, dos ossos e do corpo como um todo. São moléculas compostas por aminoácidos essenciais, os quais só podem ser obtidos através dos alimentos, pois o nosso organismo não os sintetiza, ou seja, não é capaz de produzir os nutrientes de que necessita, como fazem os organismos dos seres vegetais.

A proteína animal fornece todos os aminoácidos essenciais, enquanto a proteína vegetal apenas os fornece parcialmente. As vitaminas são nutrientes indispensáveis à vida humana e, como o nosso organismo não tem capacidade de as sintetizar, há de se assegurar a sua ingestão através da alimentação. Embora não forneçam energia, as vitaminas estão envolvidas em variados processos metabólicos que asseguram a nossa vitalidade e a energia diária.

O consumo de carne fornece ao organismo a vitamina B3, muito importante nas reações de produção de energia pelas células, a B6, que participa da formação dos glóbulos vermelhos e do funcionamento do sistema nervoso, a B7, muito importante no metabolismo dos açúcares, gorduras e proteínas, e a B12, que contribui para a prevenção do aparecimento de anemias, a formação dos glóbulos vermelhos e o correto funcionamento do sistema nervoso.

Também os minerais não são sintetizados pelo organismo, sendo assim de grande importância a sua ingestão através da alimentação. Eles contribuem para a regulação do funcionamento e da manutenção celular, facilitam o transporte de variadas substâncias e mantêm a atividade muscular e nervosa. A carne fornece ao organismo diversos minerais, tais como: sódio, potássio, fósforo, ferro, flúor e selênio. Cumpre destacar que o ferro é um mineral muito importante, pois participa do transporte de oxigênio pelo sangue, como constituinte da hemoglobina.

(“Importância da carne na alimentação humana”. [www.tecnoalimentar.pt](http://www.tecnoalimentar.pt), 31.08.2020. Adaptado)

Com base nos textos apresentados e em seus próprios conhecimentos, escreva um texto dissertativo-argumentativo, empregando a norma-padrão da língua portuguesa, sobre o tema:

## CONSUMO DE CARNE: ENTRE OS PREJUÍZOS CAUSADOS AO MEIO AMBIENTE E A NECESSIDADE HUMANA DE PROTEÍNA ANIMAL



**REDAÇÃO**

Os rascunhos não serão considerados na correção.

RASCUNHO

**NÃO ASSINE ESTA FOLHA**





